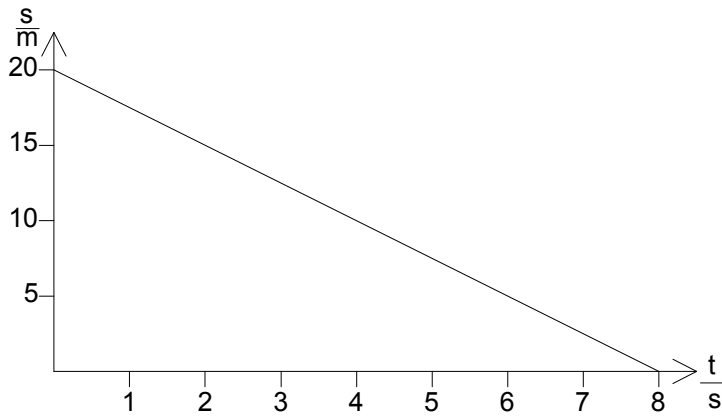
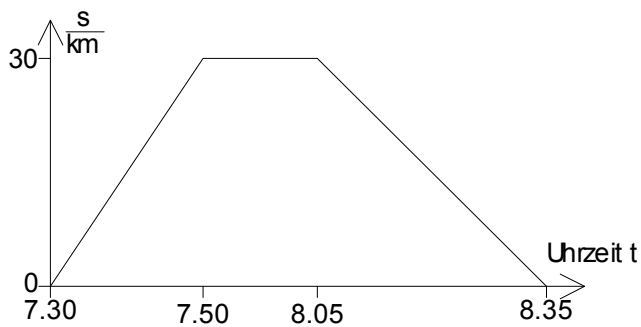


- 1) Beschreibe die in den s-t-Diagrammen dargestellten Bewegungen. Zeichne jeweils ein v-t-Diagramm zu der Bewegung.

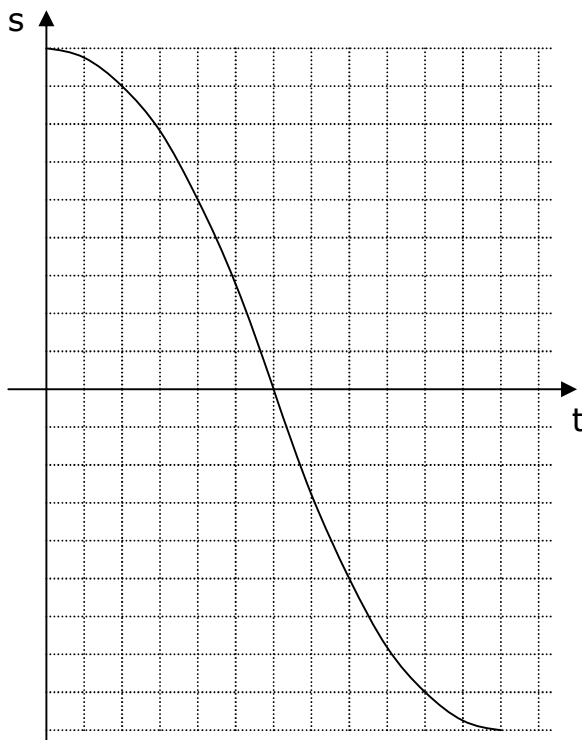
a)



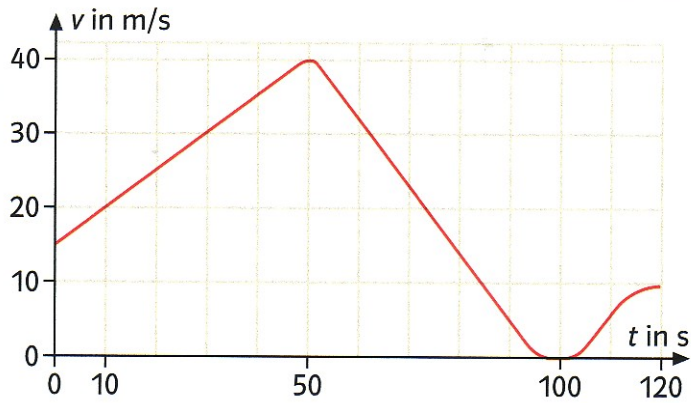
b)



c)



- 2) Beschreibe die in dem v-t-Diagramm dargestellte Bewegung. Zeichne ein möglichst genaues s-t-Diagramm zu der Bewegung.



- 3) Ein Skateboard-Fahrer durchfährt die abgebildete Halfpipe. Zeichne zu der Bewegung das passende v-t-Diagramm und entwickle daraus das s-t-Diagramm.

